



Tekst łatwy  
do czytania  
i zrozumienia

## Materiały ćwiczeniowe



# Kontynenty, oceany, morza

Zajęcia z geografii w branżowej szkole I stopnia

Beata Boguszewska



Minister  
Edukacji i Nauki



Ministerstwo  
Edukacji i Nauki

Materiały edukacyjne/ćwiczeniowe dla uczniów z niepełnosprawnością intelektualną opracowano w ramach zadania zleconego i dofinansowanego przez Ministra Edukacji i Nauki pod nazwą „**Czytam i wiem – tekst łatwy do czytania i zrozumienia w szkole. Opracowanie i upowszechnienie materiałów edukacyjnych i ćwiczeniowych w wersji łatwej do czytania i zrozumienia, instrukcji dotyczącej ich tworzenia i wykorzystania w pracy z uczniami oraz rekomendacji dotyczących wdrożenia rozwiązań w praktykę szkolną**”.

Materiały edukacyjne i ćwiczeniowe zostały opracowane zgodnie z podstawą programową kształcenia ogólnego dla branżowej szkoły I stopnia.

Zadanie zrealizowało:



Polskie Stowarzyszenie na rzecz Osób  
z Niepełnosprawnością Intelektualną  
ul. Głogowa 2b  
02-369 Warszawa




Wsparcie autorki przez Zespół ds. tekstu łatwego  
do czytania i zrozumienia:

Specjalistka ds. tekstu łatwego	<b>Ewa Zajączkowska</b>
Konsultacja i redakcja	<b>Barbara Ewa Abramowska</b> <b>Karolina Makowiecka</b>
Konsultacja dostępności	<b>Justyna Kozak</b>
Projekt okładki i ilustracje	<b>Elżbieta Grądziel</b>
Skład i łamanie	<b>MONDI Plus Sp. z o.o.</b>

Rok opracowania 2021

ISBN 978-83-66940-58-1



## Kontynenty

### Ćwiczenie 1

Które zdania są prawdziwe, a które fałszywe?

Wstaw obok zdania symbol **V** prawda albo **X** fałsz.

		<b>V</b> prawda	<b>X</b> fałsz
1.	Europa z Azją tworzą kontynent Eurazję.		
2.	Kontynenty z każdej strony otaczają morza i oceany.		
3.	Na kuli ziemskiej jest 5 kontynentów.		
4.	Australia to największy kontynent.		
5.	Europa jest blisko równika.		
6.	Ameryka Południowa należy do Ameryki Łacińskiej.		
7.	Antarktydę prawie w całości pokrywa lód.		



## Ćwiczenie 2

Ułóż z podanych liter nazwy 3 kontynentów.

Litery wpisz w puste kwadraty w odpowiedniej kolejności.

R	E	A	P	U	O

--	--	--	--	--	--

Z	A	J	A

--	--	--	--

K	A	F	Y	A	R

--	--	--	--	--	--



### Ćwiczenie 3

Na każdym obrazku 1 kontynent jest wyróżniony innym niż szary kolorem.  
Wpisz nazwę kontynentu w miejsce kropek.



.....



.....



Na każdym obrazku 1 kontynent jest wyróżniony innym niż szary kolorem.


Wpisz nazwę kontynentu w miejsce kropek.



.....



.....



## Morza

### Ćwiczenie 1

Uzupełnij zdania wyrazami z tabelki.

<b>morza</b>	<b>cieśniną</b>	<b>Wszechocean</b>
--------------	-----------------	--------------------

1) Wszystkie oceany i morza łączą się ze sobą.

Tworzą razem .....

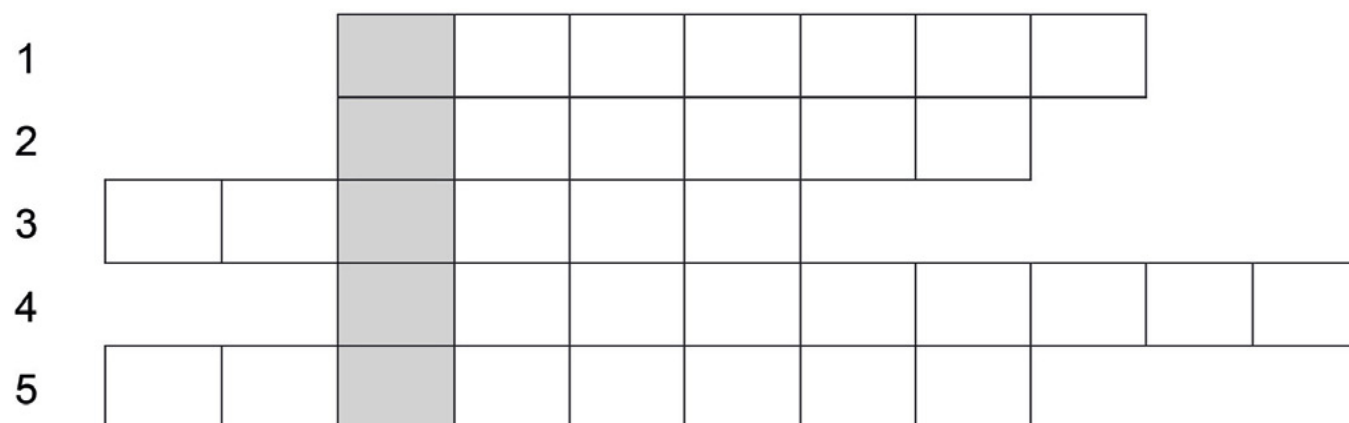
2) ..... są częścią oceanów.

3) Morza są oddzielone od oceanów półwyspem lub .....



## Ćwiczenie 2

Uzupełnij krzyżówkę.



1. Najdłuższa cieśnina w Azji.
2. Cieśnina rozdziela niektóre morza i .....
3. Kontynent na którym leży Polska.
4. Stężenie soli w morzu i oceanie to .....
5. Zwężony obszar wody.






### Ćwiczenie 3

Znajdź w tabeli i wykreśl nazwy 8 mórz:

- 1) Bałtyckie
- 2) Północne
- 3) Norweskie
- 4) Czarne
- 5) Śródziemne
- 6) Jońskie
- 7) Adriatyckie
- 8) Tyrreńskie

A	R	M	B	Ś	N	W	P	Ł	G	Ś	X
D	P	N	J	R	O	Ś	L	U	Ń	G	F
R	Ó	Ł	O	Ó	R	Y	S	R	T	I	S
I	Ł	Ń	Ń	D	W	M	O	B	Y	I	P
A	N	C	S	Z	E	Z	J	A	R	S	E
T	O	Z	K	I	S	R	W	Ł	R	J	Ś
Y	C	A	I	E	K	O	R	T	E	Q	X
C	N	R	E	M	I	H	Q	Y	Ń	C	W
K	E	N	P	N	E	P	B	C	S	X	G
I	E	E	T	E	L	Y	X	K	K	N	E
E	Ń	D	Ó	B	N	E	Ś	I	I	W	S
V	Ń	Q	P	Q	Z	M	M	E	E	G	I




## Oceany

### Ćwiczenie 1

Uzupełnij zdania. W miejsce kropek wpisz wyrazy z ramki.

<b>Ocean Spokojny</b>	<b>Europy</b>	<b>zachodniej</b>
<b>Ocean Południowy</b>	<b>Atlantyckiego</b>	

- 1) Największy ocean to .....
- 2) Najmniejszy ocean to .....
- 3) Ocean Arktyczny jest na półkuli północnej. Jest między brzegami Ameryki Północnej, ..... i Azji.
- 4) Ocean Atlantycki jest na półkuli .....
- 5) Morze Bałtyckie jest częścią Oceanu .....



## Ćwiczenie 2



**Spójrz na mapę i kuli ziemskiej.**

Jakie kontynenty graniczą linią brzegową z Oceanem Atlantyckim?

W miejsce kropek wpisz nazwy kontynentów.

1. ....

2. ....

3. ....

4. ....





**Spójrz na mapę i kuli ziemskiej.**

Jakie kontynenty graniczą linią brzegową z Oceanem Arktycznym?  
W miejsce kropek wpisz nazwy kontynentów.

1. ....

2. ....

3. ....





**Spójrz na mapę i kuli ziemskiej.**

Jakie kontynenty graniczą linią brzegową z Oceanem Indyjskim?

W miejsce kropek wpisz nazwy kontynentów.

1. ....
2. ....
3. ....
4. ....





**Spójrz na mapę i kuli ziemskiej.**

Jakie kontynenty graniczą linią brzegową z Oceanem Spokojnym?

W miejsce kropek wpisz nazwy kontynentów.

1. ....

2. ....


3. ....

4. ....

5. ....

6. ....





**Spójrz na mapę i kuli ziemskiej.**

Jaki kontynent jest otoczony przez Ocean Południowy?

W miejsce kropek wpisz nazwę kontynentu.

1. ....

